











# Groep 5 – Toetsen tot aan de voorjaarsvakantie

## Toetsrooster

Datum	Vak	Inhoud/oefenen																																										
11 jan	Taal Toets Thema 4	<ul style="list-style-type: none"> <li>- Themawoorden van thema 4</li> <li>- Het hele werkwoord maken (droomt-dromen, wenst- wensen)</li> <li>- Basiswoorden maken (raampje-raam, loopt-lopen, oude-oud)</li> <li>- Voorzetsels</li> </ul>																																										
15 jan	Spelling Woorddictee Thema 4	<ul style="list-style-type: none"> <li>- Woorden met -d/ -t (hond)</li> <li>- Woorden met gesloten lettergreep (bakker, kapper)</li> <li>- Woorden met open lettergreep (tempo, echo, euro, lopen, ramen)</li> </ul>																																										
18 jan	Spelling Zinnendictee Thema 4	<ul style="list-style-type: none"> <li>- Woorden met -d/ -t (hond)</li> <li>- Woorden met gesloten lettergreep (bakker, kapper)</li> <li>- Woorden met open lettergreep (tempo, echo, euro, lopen, ramen)</li> </ul> <p>Verder zijn ook leestekens en de andere spellingscategorieën belangrijk bij het zinnendictee.</p>																																										
18 jan 21 jan (2 delen)	Rekentoets Blok 4A	<div style="border: 1px solid blue; padding: 10px;"> <p><b>Ik kan de kalender aflezen</b></p>  <p>a Op welke dag valt 15 februari? b Hoeveel dagen heeft de maand maart? c De gele dagen zijn vakantie periodes. Hoeveel weken moet je naar school tussen de vakantie in? d Joost is de tweede dinsdag in april jarig. Welke datum is dat? e Op welke dag valt 31 december?</p> <p><b>Ik kan handig vermenigvuldigen</b></p> <p><math>3 \times 9 = \dots \times 30 = 240</math>  <math>3 \times 90 = \dots \times 20 = 200</math>  <math>4 \times 4 = \dots \times 70 = 70</math>  <math>4 \times 40 = \dots \times 60 = 480</math>  <math>4 \times 40 = \dots \times 50 = 200</math></p> <p><b>Ik kan de datum uitrekenen</b></p>  <table border="1" style="width: 100%; text-align: center;"> <tr> <td>1 maand eerder:</td> <td>vandaag:</td> <td>1 maand later:</td> </tr> <tr> <td>3 oktober</td> <td>3 november</td> <td>3 december</td> </tr> <tr> <td></td> <td>26 september</td> <td></td> </tr> <tr> <td></td> <td>30 december</td> <td></td> </tr> <tr> <td></td> <td>21 oktober</td> <td></td> </tr> <tr> <td></td> <td>1 november</td> <td></td> </tr> </table> <p style="text-align: center;"><b>Boek 5a blok 4: Winterweer</b></p>  <p><b>Ik kan berekenen hoeveel geld ik terug krijg</b></p> <table style="width: 100%;"> <tr> <td>je koopt:</td> <td>je geeft:</td> <td></td> <td></td> </tr> <tr> <td>winterjas</td> <td>€ 200</td> <td></td> <td></td> </tr> <tr> <td>schaatsen</td> <td>€ 500</td> <td></td> <td>€ 215</td> </tr> <tr> <td>trui en broek</td> <td>€ 100</td> <td></td> <td></td> </tr> <tr> <td>schaatslessen</td> <td>€ 200</td> <td></td> <td></td> </tr> <tr> <td>skis</td> <td>€ 500</td> <td></td> <td></td> </tr> </table> <p><b>Ik kan handig rekenen</b></p> <p><math>92 + 9 =</math>                      <math>130 - 71 =</math>  <math>192 + 9 =</math>                      <math>103 - 5 =</math>  <math>392 + 9 =</math>                      <math>103 - 26 =</math>  <math>392 + 29 =</math>                     <math>116 - 40 =</math>  <math>592 + 29 =</math>                     <math>116 - 45 =</math></p> <p><b>Ik kan een staafdiagram aflezen</b></p>  <p>a Op welke dag komen de minste bezoekers? b Op welke dag komen de meeste bezoekers? c Op welke dagen komen evenveel bezoekers? d Op woensdag zijn er meer bezoekers dan op maandag. Hoeveel meer? e Op donderdag zijn er minder bezoekers dan op zaterdag. Hoeveel minder? f Hoeveel bezoekers zijn er op donderdag en vrijdag?</p> </div>	1 maand eerder:	vandaag:	1 maand later:	3 oktober	3 november	3 december		26 september			30 december			21 oktober			1 november		je koopt:	je geeft:			winterjas	€ 200			schaatsen	€ 500		€ 215	trui en broek	€ 100			schaatslessen	€ 200			skis	€ 500		
1 maand eerder:	vandaag:	1 maand later:																																										
3 oktober	3 november	3 december																																										
	26 september																																											
	30 december																																											
	21 oktober																																											
	1 november																																											
je koopt:	je geeft:																																											
winterjas	€ 200																																											
schaatsen	€ 500		€ 215																																									
trui en broek	€ 100																																											
schaatslessen	€ 200																																											
skis	€ 500																																											
22 febr	Taal Toets Thema 5	<ul style="list-style-type: none"> <li>- Themawoorden van thema 5</li> <li>- Het onderwerp van de zin</li> <li>- Verwijswoorden (het, hij, zij, die)</li> <li>- De komma gebruiken</li> <li>- Het zelfstandig naamwoord</li> </ul>																																										
4 en 5 mrt	Rekentoets Blok 1 B																																											

**Ik kan lengtematen opschrijven als kommagetal**

2 m en 60 cm = 2,60 m      6 m en 25 cm = .....

2 m en 6 cm = .....

6 m en 3 cm = .....

8 m en 40 cm = .....

9 m en 90 cm = .....

8 m en 44 cm = .....

9 m en 9 cm = .....

8 m en 4 cm = .....

3 m en 13 cm = .....

**Ik weet hoeveel het gekleurde getal waard is**

4	8	3	12
34	8	20	4
4	65	7	5
10	5	5	84
3	0	6	2

**Boek 5b blok 1: Het milleustation**

**Ik kan een keersom maken**

per krat 12 kg      7 x 12 kg = ... kg

per doos 19 kg      ... x ... kg = ... kg

per zak 18 kg      ... x ... kg = ... kg

**Ik kan optellen tot en met 1000**

+	45	58
75		
175		
94		
194		

**Ik kan de twee digitale tijden opschrijven**

3:13      .....      .....      .....      .....

15:13      .....      .....      .....      .....

16:04

**Ik kan aftrekken tot en met 1000**

-	45
in	uit
123	
523	
823	
813	
913	

**Ik kan gewichten samenstellen**

2000 g      3 kg      1750 g      2000 g

125 g      125 g      250 g      1 kg      2 kg      2500 g

5 mrt	Spelling Woorddictee Thema 5	<ul style="list-style-type: none"> <li>- Woorden met au/ ou</li> <li>- Woorden met -cht (nacht, echt)</li> <li>- Verkleinwoorden</li> </ul>
8 mrt	Spelling Zinnendictee Thema 5	<ul style="list-style-type: none"> <li>- Woorden met au/ ou</li> <li>- Woorden met -cht (nacht, echt)</li> <li>- Verkleinwoorden</li> </ul> <p>Verder zijn ook leestekens en de andere spellingscategorieën belangrijk bij het zinnendictee.</p>

*De oefenstof is te vinden op de website onder 'groepen', daarna naar beneden scrollen naar 'lesstof'.*